

Nom : _____ Date : _____

1 Pour chacun des nombres suivants, entoure la partie entière en bleu et la partie décimale en rouge.

- a. 4 , 8 9 c. 1 0 0 , 0 8 e. 7 , 6 1 g. 6 7 , 4 i. 7 , 3
 b. 1 6 , 2 d. 0 , 5 f. 4 , 7 8 h. 7 2 j. 8 , 7 2

2 Pour chacun de ces nombres, entoure en rouge le chiffre des dizaines et en vert le chiffre des dixièmes.

- a. 5 3 , 8 c. 3 4 , 0 2 e. 2 1 3 , 9 g. 7 6 , 9 i. 2 3 , 8
 b. 2 1 , 9 8 d. 1 0 , 9 f. 7 , 0 2 h. 1 6 7 j. 3 0 , 0 8





3 Écris ces nombres sous forme de nombres décimaux.

- a. trois unités + 5 dixièmes :
 b. sept unités et sept centièmes :
 c. cent vingt-neuf unités + 3 dixièmes + 9 centièmes :
 d. 9 dizaines + 4 centièmes :
 e. cinquante-deux unités + 2 dixièmes + 3 centièmes :

4 Écris chaque nombre sous la forme d'une fraction décimale et d'un nombre à virgule.

- a. 6 unités et 7 dixièmes : et
 b. 13 unités et 29 centièmes : et
 c. 3 unités et 4 centièmes : et
 d. 57 dixièmes : et
 e. 1 unité et 36 centièmes : et

5 Écris ces sommes d'argent sous forme de nombres décimaux.

<p>a.</p>  <p>.....</p>	<p>b.</p>  <p>.....</p>	<p>c.</p>  <p>.....</p>	<p>d.</p>  <p>.....</p>
--	--	--	--